



سوال	شرح سوال																			
۱	جاهای خالی را کامل کن. <table border="1" style="display: inline-table; margin-right: 20px;"> <tr> <td>یکان</td> <td>دهگان</td> <td>صدگان</td> </tr> <tr> <td>.....</td> <td>.....</td> <td>.....</td> </tr> </table> ۸۳۲ <table border="1" style="display: inline-table; margin-left: 20px;"> <tr> <td>یکان</td> <td>دهگان</td> </tr> <tr> <td>.....</td> <td>.....</td> </tr> </table> ۵۹	یکان	دهگان	صدگان	یکان	دهگان									
یکان	دهگان	صدگان																		
.....																		
یکان	دهگان																			
.....																			
۲	حاصل جمع های زیر را بدست بیاور. $۸ + ۱۰ + ۳۰ + ۵ + ۵ = \dots\dots\dots$ $۲۰ + ۱۵ + ۳۰ + ۵ + ۱۵ = \dots\dots\dots$																			
۳	در جای خالی عدد مناسب بنویس. الف) ۵۲ به چه عددی نزدیک تر است؟ ۴۰ یا ۵۰؟ ب) ۷۹ به چه عددی نزدیک تر است؟ ۷۰ یا ۸۰؟																			
۴	ساعت چند است؟ بنویس. <div style="display: flex; justify-content: space-around;"> <div style="text-align: center;">  ساعت و دقیقه </div> <div style="text-align: center;">  ساعت و دقیقه </div> </div>																			
۵	اشکال زیر را رسم کن و تعداد ضلع ها و گوشه های هر یک را بنویس. <table border="1" style="width: 100%; text-align: center;"> <tr> <td>دایره</td> <td>مثلث</td> <td>مربع</td> <td>مستطیل</td> <td>رسم شکل</td> </tr> <tr> <td> </td> <td> </td> <td> </td> <td> </td> <td>تعداد ضلع</td> </tr> <tr> <td> </td> <td> </td> <td> </td> <td> </td> <td>تعداد گوشه</td> </tr> </table>	دایره	مثلث	مربع	مستطیل	رسم شکل					تعداد ضلع					تعداد گوشه				
دایره	مثلث	مربع	مستطیل	رسم شکل																
				تعداد ضلع																
				تعداد گوشه																
۶	کیسه ها را بشمار و بنویس چند ریال است. <div style="display: flex; justify-content: space-around;"> <div style="text-align: center;"> <table border="1" style="margin-bottom: 5px;"> <tr><td>۱۰۰</td></tr> <tr><td>۱۰۰</td></tr> <tr><td>۱۰۰</td></tr> </table> <table border="1" style="margin-bottom: 5px;"> <tr><td>۱۰</td><td>۱۰</td><td>۱۰</td><td>۱۰</td><td>۱۰</td></tr> </table> <table border="1" style="margin-bottom: 5px;"> <tr><td>۱</td><td>۱</td><td>۱</td></tr> </table> ریال </div> <div style="text-align: center;"> <table border="1" style="margin-bottom: 5px;"> <tr><td>۱۰۰</td></tr> </table> <table border="1" style="margin-bottom: 5px;"> <tr><td>۱۰</td><td>۱۰</td><td>۱۰</td></tr> </table> <table border="1" style="margin-bottom: 5px;"> <tr><td>۱</td><td>۱</td><td>۱</td><td>۱</td></tr> </table> ریال </div> </div>	۱۰۰	۱۰۰	۱۰۰	۱۰	۱۰	۱۰	۱۰	۱۰	۱	۱	۱	۱۰۰	۱۰	۱۰	۱۰	۱	۱	۱	۱
۱۰۰																				
۱۰۰																				
۱۰۰																				
۱۰	۱۰	۱۰	۱۰	۱۰																
۱	۱	۱																		
۱۰۰																				
۱۰	۱۰	۱۰																		
۱	۱	۱	۱																	
۷	اعداد زیر را به رقم و حروف بنویس. پانصد و هفتاد ششصد و نود و یک																			
۸	حسین ۴۰۰ ریال و مجید ۳۰۰ ریال را در صندوق انداختند. آن ها با هم چند ریال در صندوق انداخته اند؟																			
۹	خط های زیر را با خط کش اندازه بگیر و بنویس چند میلی متر است. <div style="display: flex; justify-content: space-around; margin-top: 10px;"> <div style="text-align: center;"> <hr style="width: 100px; border: 0.5px solid black;"/> <p>..... میلی متر</p> </div> <div style="text-align: center;"> <hr style="width: 100px; border: 0.5px solid black;"/> <p>..... میلی متر</p> </div> </div>																			

با عدد های ۲، ۹، ۵ تا می توانی اعداد ۳ رقمی بنویس و دور آن هایی که یکان آن ها ۲ است خط بکش.


حاصل جمع و تفریق های زیر را بدست بیاور.

فرایندی	تکنیکی	فرایندی	تکنیکی
۶۵۱	۵۹۲	۴۹۲	۴۲۸
+ ۲۳۲	+ ۲۲۱	- ۲۵۱	- ۱۱۹
.....

$100 + 300$ $200 + 200$

$200 + 7$ ۲۲۰

۳۱۶ ۴۱۵



۶ قسمت از ۱۵ قسمت



با توجه به عبارت نوشته شده، شکل را رنگ بزن.
۲ قسمت از ۴ قسمت

در جعبه ی مداد رنگی ۲ مداد قرمز، ۵ مداد آبی و ۳ مداد سبز وجود دارد.
چه کسری از مداد ها قرمز است؟
چه کسری از مداد ها آبی است؟
چه کسری از مداد ها سبز است؟

تعداد دانش آموزان شرکت کننده در رشته های ورزشی یک باشگاه به صورت زیر است.

رشته	والیبال	بسکتبال	فوتبال	کاراته	شنا	ژیمناستیک
تعداد	۶۳	۴۸	۳۳	۳۴	۳۸	۲۱
تعداد تقریبی

ابتدا تعداد تقریبی دانش آموزان را بنویس و نمودار را با نشان دادن هر ۱۰ نفر با شکل کامل کن.

موفق باشید





ژیمناستیک شنا کاراته فوتبال بسکتبال والیبال

بسمه تعالی	
نام و نام خانوادگی:	دبستان غیردولتی دخترانه پیوند قابوس
نام آموزگار: طاهره ازدردر	نام آموزگار: طاهره ازدردر
آزمون مداد کاغذی فارسی نوشتاری	پایه: دوم ابتدایی
تاریخ: ۱۴۰۱/۰۳/۰۲	
۱	معنی کلمات زیر را بنویس. آهسته () مواظبت () محبت ()
۲	مرتب کن. سخن - آدم - دعا - باخدا - می گوید - در - موقع وانگهی - شود - قطره قطره - دریا - گردد - جمع
۳	دو کلمه بنویس که آخر آن ها مثل (مثلاً) باشد.
۴	بگو یعنی چه: بانظم: یعنی (.....) این کتاب: یعنی (.....) نابینا: یعنی (.....) صندلی ها: یعنی (.....)
۵	جملات زیر را پرسشی کن. امروز هوا سرد است. (.....) رضا به مدرسه می رود. (.....)
۶	مخالف کلمات زیر را بنویس. شروع: () روشن: () جوان: () روز: ()
۷	کلمه‌ی مشترک کدام است؟ (سخن گو، سخن چین، سخن ران).....
۸	به جای کلمه‌ی داخل کمانک، کلمه‌ی مناسب دیگری بگذار و جمله بنویس. خداوند همه چیز را (خلق کرده است) (.....)
۹	در کدام کلمه شکل (و) صدایی ندارد. الف: شروع <input type="checkbox"/> ب: روشن <input type="checkbox"/> ج: خواهش <input type="checkbox"/> د: طوطی <input type="checkbox"/>

<p>با استفاده از کلمات (من، تو، او، ما، شما، آن‌ها، جملات را کامل کن.</p> <p>..... کتاب می‌خوانی؟</p> <p>..... به خیابان رفتند؟</p> <p>..... دعا کردم.</p>	۱۰
<p>شکل (ی) در آخر کدام کلمه صدای (آ) می‌دهد.</p> <p>الف: شیرینی <input type="checkbox"/> ب: موسی <input type="checkbox"/> ج: چای <input type="checkbox"/> د: آبی <input type="checkbox"/></p>	۱۱
<p>با کلمات زیر جمله بساز.</p> <p>خدا:</p> <p>دعا:</p> <p>تشکر:</p> <p>زیارت:</p> <p>مهربان:</p>	۱۲

جزوه سیتی

موفق باشی عزیزم

بازخورد عملکرد دانش آموز					
بازخورد				انتظارات معلم	ردیف
					
				کلمات هم‌معنی را درست تشخیص داده است.	۱
				جمله‌ها را سؤالی کرده و در پایان جمله علامت سؤال گذاشته است.	۲
				جمله‌های در هم ریخته را درست مرتب کرده است.	۳
				صدای آخر کلمات را درست تشخیص داده و نمونه‌های دیگر را نوشته است.	۴
				کلمات را با توجه به قسمت مشترک آن‌ها دسته‌بندی کرده و قسمت مشترک را نوشته است.	۵

بازخورد معلم:

ریاضی دوم - مسائل غیر دولتی دخترانه یونس

سوال	پاسخ	نمره
۸	۳	۲

سوال	پاسخ
۵	۹

پاسخ ۱

$$۸ + ۱۰ + ۲۰ + ۵ + ۵ = ۵۸$$

پاسخ ۲

$$۲۰ + ۱۵ + ۳۰ + ۵ + ۱۵ = ۸۵$$

الف) به عدد ۵۰

پاسخ ۳

ب) به عدد ۸۰



پاسخ ۴

پاسخ ۵

شکل	مستطیل	مربع	مثلث	دایره
رسم شده				
تعداد ضلع	۴	۴	۳	۰
تعداد گوشه	۴	۴	۳	۰

پاسخ ۶

۳۵۲

۱۳۴

باسم ۷

تعداد روز ۴۰۲

یا نقد و حقا ۵۷۰

تعداد روز ۹۴

تعداد روز ۴۹۲

$$\begin{array}{r} ۴۰۰ \\ + ۳۰۰ \\ \hline ۷۰۰ \end{array}$$

۷۰۰ روز با پول و نقد
از / چته از

باسم ۸

باسم ۹

۴۵ - کلی

۴۰ - کلی

۵۱۹ - ۵۹۲ - ۲۸۹ - ۲۹۵ - ۹۲۵ - ۹۵۲

باسم ۱۰

باسم ۱۱

$$\begin{array}{r} ۴۵۱ \\ + ۱۲۲ \\ \hline ۵۷۳ \\ + ۷۳ \\ \hline ۶۴۶ \\ + ۱۱ \\ \hline ۶۵۷ \end{array}$$

$$\begin{array}{r} ۵۹۲ \\ + ۲۲۱ \\ \hline ۸۱۳ \end{array}$$

$$\begin{array}{r} ۴۹۲ \\ - ۲۵۱ \\ \hline ۲۴۱ \\ - ۷۵ \\ \hline ۱۶۶ \\ - ۲ \\ \hline ۱۶۴ \end{array}$$

$$\begin{array}{r} ۱۸ \\ ۴۵۸ \\ - ۱۱۹ \\ \hline ۳۰۹ \end{array}$$

$$۱۰۰ + ۳۰۰ < ۲۰۰ + ۲۰۰$$

$$۲۰۰ + ۷ < ۲۲۰$$

$$۲۱۴ < ۴۷۵$$

باسم ۱۲

باسم ۱۵

باسم ۱۴

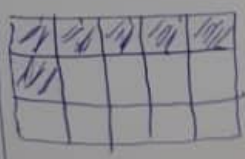
باسم ۱۳

روز	تعداد	کلی	فرد	تعداد	روز	تعداد
۲۱	۲۸	۲۴	۲۲	۴۸	۶۳	۱۰
۲۰	۲۰	۲۰	۲۰	۵۰	۴۰	۱۰

$$\frac{۲}{۱۰} = \text{قرمز}$$

$$\frac{۵}{۱۰} = \text{آبی}$$

$$\frac{۳}{۱۰} = \text{سبز}$$



۴۰ : ۴۰

۱۵ : ۱۵